

华南理工大学
2017 年攻读硕士学位研究生入学考试试卷

(试卷上做答无效, 请在答题纸上做答, 试后本卷必须与答题纸一同交回)

科目名称: 材料力学(机)

适用专业: 化工过程机械

共 4 页

一 简答题 (每题 5 分, 共 10 分)

- 1 材料力学中为什么要对可变形固体进行假设? 主要假设包括什么?
- 2 低碳钢经过冷作硬化处理后, 其力学性质将产生什么变化?

二 单选题 (每题 5 分, 共 50 分)

1 粉笔由石灰制成, 很容易拉断, 但相同形状尺寸的钢杆却难以拉断, 根据上述得到判断, 石灰的强度比钢杆的强度_____。

- A 高 B 低 C 相同 D 无法判断

2 教室照明用的日光灯往往由两根铁杆悬挂起来。如果将铁杆换为橡皮筋, 日光灯管将出现晃荡、震颤等现象, 从材料力学的角度看, 此结构所处状态是_____。

- A 刚度不够 B 强度不够 C 应力过大 D 应力过小

3 一拉伸杆, 弹性模量 $E=200\text{GPa}$, 比例极限为 200MPa , 现测得其轴向应变为 0.0015 , 则横截面的正应力为_____MPa。

- A 小于 200 B 大于 300 C 介于 200 至 300 D 参数不够, 无法计算

4 两端受扭转力偶矩作用的实心圆轴, 不发生屈服的最大许可载荷为 M_0 , 若其横截面面积增加 1 倍, 则最大许可载荷为_____。

- A $\sqrt{2} M_0$ B $2M_0$ C $2\sqrt{2} M_0$ D $4M_0$

5 将梁上集中力偶向左平移时, 下面描述正确的是_____。

- A 梁的剪力图不变, 弯矩图变化 B 梁的剪力图 and 弯矩图都变化
C 梁的剪力图变化, 弯矩图不变 D 梁的剪力图 and 弯矩图都不变

6 在梁集中力偶作用处，其左右截面上的弯矩是_____。

- A 大小相等，符号相同
- B 大小相等，符号相反
- C 大小相等，符号有时相同有时相反
- D 大小不等，符号相同

7 撑杆跳过程中瞬间杆件的最小曲率半径是 7.5m，杆件直径是 40mm，材料弹性模量是 120GPa，则撑杆的最大正应力是_____MPa。

- A 120
- B 240
- C 320
- D 480

8 如图 1a 所示，某量截面受竖向载荷作用，其截面为正方形，相将截面转动 45° 图 1b 所示，则梁的_____。

- A 强度提高，刚度不变
- B 强度降低，刚度不变
- C 强度不变，刚度提高
- D 强度不变，刚度降低



图 1a

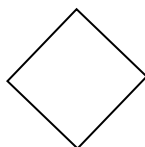


图 1b

9 如图 2 所示平面应力状态，材料的弹性模量 $E=200\text{GPa}$ ，泊松比为 0.3，则垂直纸面方向的应变是_____ $\mu\epsilon$ 。

- A 0
- B 300
- C -300
- D -150

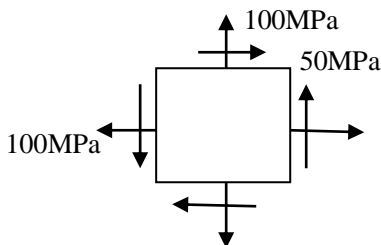
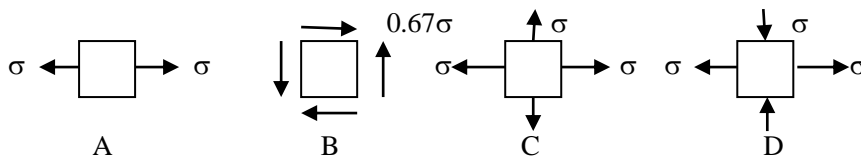


图 2

10 塑性材料构件中的四个点应力状态如下所示，最容易屈服的是_____。



三. 三杆构架如图 3 所示, 已知载荷 $F=40\text{KN}$, 三杆的横截面面积分别为 $A_1=200\text{mm}^2$, $A_2=250\text{mm}^2$, $A_3=300\text{mm}^2$, 各杆材料相同, 弹性模量 $E=200\text{GPa}$, 试求各杆轴力。(10分)

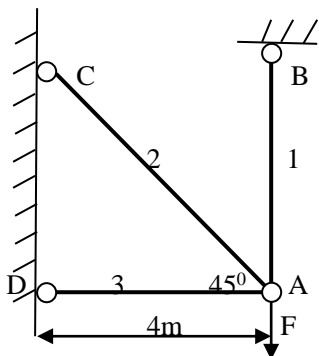


图 3

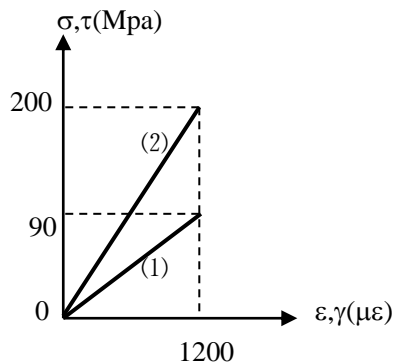


图 4

四 同一常见工程材料的拉伸和扭转实验的应力应变关系如图 4 所示, 试指出哪根曲线是拉伸实验的结果, 而哪根曲线是扭转实验的结果, 并根据图上数据计算材料的弹性模量和泊松比。(10分)

五 完成图 5 各梁的剪力图和弯矩图。(各 10 分, 共 20 分)

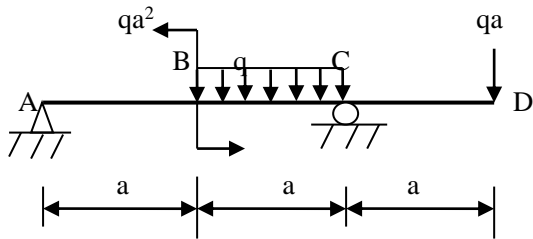


图 5a

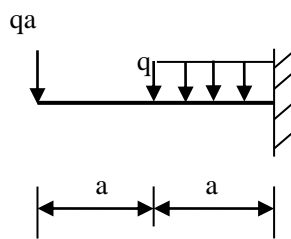


图 5b

六 如图 6 所示, 当横向力 F 直接作用在长度为 l 的简支梁 AB 中点时, 梁内最大正应力超标 20%, 为了安全起见, 配置辅助梁 CD , 试求辅助梁 CD 的最小长度。(10分)

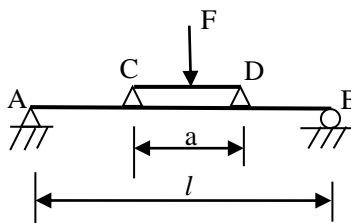


图 6

七 如图 7 所示，简支梁承受均布载荷作用。若分别采用面积相等的实心圆和空心圆截面，且 $D_1=50\text{mm}$ ， $\frac{d_2}{D_2} = \frac{2}{3}$ ，试分别计算两者的最大弯曲应力并比较其大小。（10分）

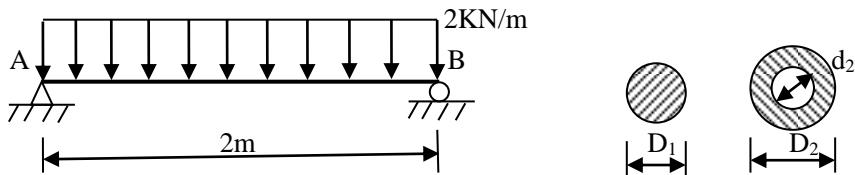


图 7

八 如图 8 所示平面应力状态，各应力分量单位是 MPa，求其主应力和主方向。（10分）

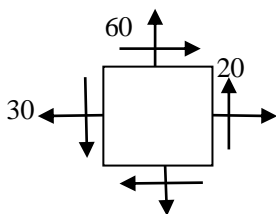


图 8

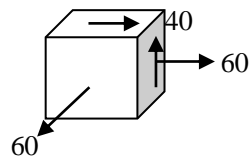


图 9

九 如图 9 所示应力单元体应力状态，试求解三个主应力和最大切应力，并计算第三强度理论相当应力。（单位为 MPa）（10分）

十 如图 10 所示，一拉杆原截面是边长为 a 的正方形，拉力 F 与杆轴重合，后因使用需要，开了一深 $a/3$ 的切口。试求杆内最大拉应力和最大压应力，并简要评述截面削弱前后应力变化情况。（10分）

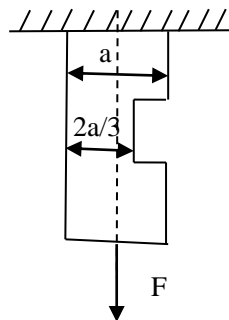


图 10